

Aktivita :

Medovníčky z chalúpky

Výkonový štandard: V obore do 4 určí počítaním po jednej počet predmetov v skupine. U1 -34-

Vytvorí dvojicu objektov na základe požadovanej (určenej) logickej súvislosti. U1 -67-

Vzdelávacia oblasť: Matematika a práca s informáciami

Vek.skupina: 3-4 ročné deti




Motivačná časť: Pripomenieme si rozprávku Janko a Marienka, ktorú sme si v týždni čítali. Keď Janko s Marienkou zabľúdili v lese, natrafili na medovníkovú chalúpku. Chalúpka bola celá z medovníkov. No a kto by odolal sladkým medovníkom? Koľko medovníkov stihol zjesť Janko, kým ho chytila Ježibaba? Skús spočítať.



Hlavná časť: nájsi dva rovnaké medovníčky a spoj ich čiarou



Fixačná časť: vyfarbi medovníčky tak, aby mali rovnaké dvojice



Záver: pochválime deti za správne vypracovanie úloh a navrhneme im, že si pustíme video rozprávku Janko a Marienka od Smejka a Tanculienky.

https://www.youtube.com/watch?v=kjpF-RScyDY&list=PLIDzrwNCRjSuG_9f6rvmRoJq_fln9HdeS